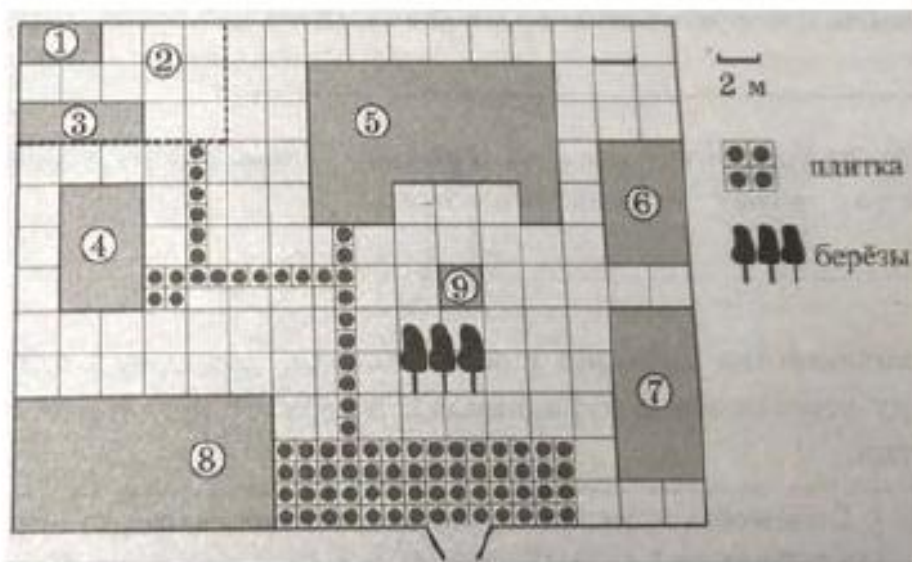


Вариант № 4

Часть 1

Прочитайте внимательно текст и выполните задания 1-5



На плане изображено домохозяйство, находящееся по адресу: с. Малые Всегодичи, д. 26. Сторона каждой клетки на плане равна 2 м. Участок имеет форму прямоугольника. Выезд и въезд осуществляются через единственные ворота.

При входе на участок справа от ворот находится коровник, а слева – курятник. Площадь, занятая курятником, равна 72 кв. м. Рядом с курятником расположен пруд площадью 24 кв. м.

Жилой дом расположен в глубине территории. Перед домом имеется фонтан, а между фонтаном и воротами – небольшая берёзовая рощица. Между жилым домом и коровником построена баня. За домом находится огород (его границы отмечены на плане пунктирной линией), на котором есть теплица, а также (в самом углу и огорода, и всего домохозяйства) – компостная яма. Все дорожки внутри участка имеют ширину 1 м и вымощены тротуарной плиткой размером 1 м × 1 м. Между коровником и курятником имеется площадка площадью 56 кв. м, вымощенная такой же плиткой.

1

Сопоставьте объекты, указанные в таблице, с цифрами, которыми эти объекты обозначены на плане. Заполните таблицу, а в бланк ответов перенесите последовательность из пяти цифр.

Объекты	огород	пруд	фонтан	баня	жилой дом
Цифры					

2

Тротуарная плитка продаётся в упаковках по 4 штуки. Сколько упаковок понадобилось купить владельцам домохозяйства для того, чтобы выложить все дорожки и площадку между коровником и курятником?

Ответ: _____.

3

Найдите площадь, которую занимает жилой дом. Ответ дайте в квадратных метрах.

Ответ: _____.

4

Найдите расстояние от жилого дома до бани (расстояние между двумя ближайшими точками объектов по прямой). Ответ дайте в метрах.

Ответ: _____.

5

Владельцы домохозяйства планируют обновить всю тротуарную плитку (и дорожки, и площадку между коровником и курятником). В таблице представлены условия трёх поставщиков плитки.

Поставщик	Стоимость плитки (в рублях за 1 кв. м)	Доставка (в рублях)	Работы по демонтажу старой плитки и по укладке новой (в рублях)
1	270	4000	15 000
2	280	3000	5000
3	300	2000	8000

Во сколько рублей обойдётся владельцам самый выгодный вариант?

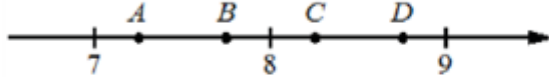
Ответ: _____.

6 Найдите значение выражения

$$\frac{1,7 + 3,8}{2,2}$$

Ответ: _____.

7 На координатной прямой отмечены точки A, B, C и D .



Одна из них соответствует числу $\frac{58}{7}$. Какая это точка?

- 1) точка A
- 2) точка B
- 3) точка C
- 4) точка D

Ответ:

8 Найдите значение выражения

$$\frac{1}{\sqrt{17} - 4} - \frac{1}{\sqrt{17} + 4}$$

Ответ: _____.

9 Найдите корень уравнения

$$(x + 3)^2 = (x + 8)^2$$

Ответ: _____.

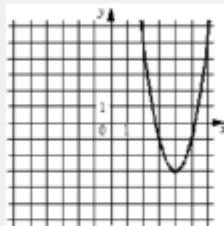
10 В магазине канцтоваров продаётся 84 ручки, из них 22 красных, 9 зелёных, 41 фиолетовая, остальные синие и чёрные, их поровну. Найдите вероятность того, что случайно выбранная в этом магазине ручка будет красной или фиолетовой.

Ответ: _____.

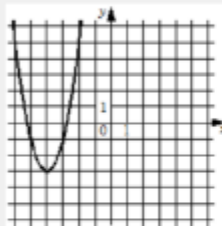
11 Установите соответствие между графиками функций и формулами, которые их задают.

ГРАФИКИ

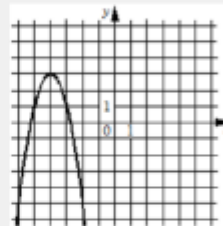
А)



Б)



В)



ФОРМУЛЫ

1) $y = 2x^2 - 16x + 29$

2) $y = 2x^2 + 16x + 29$

3) $y = -2x^2 - 16x - 29$

В таблице под каждой буквой укажите соответствующий номер.

Ответ:

А	Б	В

12 Выписаны первые три члена арифметической прогрессии:
-8; -1; 6; ...

Найдите 7-й член этой прогрессии.

Ответ: _____.

13 Найдите значение выражения

$$\frac{a^2 - 81}{2a^2 - 18a}$$

при $a = 1,5$.

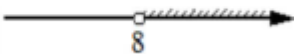
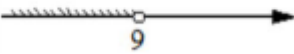

Ответ: _____.

14 В фирме «Эх, прокачу!» стоимость поездки на такси (в рублях) длительностью более 5 минут рассчитывается по формуле $C = 150 + 11(t - 5)$, где t – длительность поездки (в минутах). Пользуясь этой формулой, рассчитайте стоимость 15-минутной поездки. Ответ дайте в рублях.

Ответ: _____.

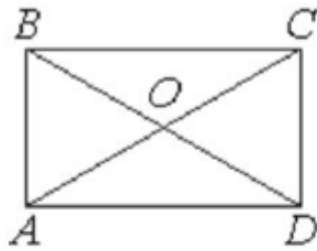
15 Укажите решение системы неравенств

$$\begin{cases} x > 8, \\ 9 - x > 0. \end{cases}$$

- 1) 
- 2) 
- 3) 
- 4) нет решений

Ответ:

- 16 Диагонали AC и BD прямоугольника $ABCD$ пересекаются в точке O , $BO = 7$, $AB = 6$. Найдите AC .



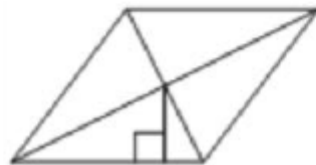
Ответ: _____.

- 17 Радиус окружности, описанной около равностороннего треугольника, равен 6. Найдите высоту этого треугольника.



Ответ: _____.

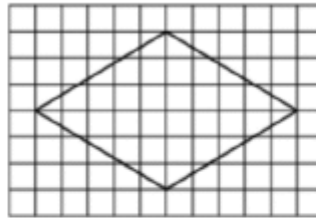
- 18 Сторона ромба равна 9, а расстояние от точки пересечения диагоналей ромба до неё равно 1. Найдите площадь этого ромба.



Ответ: _____.

19

На клетчатой бумаге с размером клетки 1×1 изображён ромб. Найдите длину его большей диагонали.



Ответ: _____.

20

Какое из следующих утверждений верно?

- 1) Площадь трапеции равна произведению основания трапеции на высоту.
- 2) Две окружности пересекаются, если радиус одной окружности больше радиуса другой окружности.
- 3) Существует прямоугольник, диагонали которого взаимно перпендикулярны.

В ответ запишите номер выбранного утверждения.

Ответ: _____.